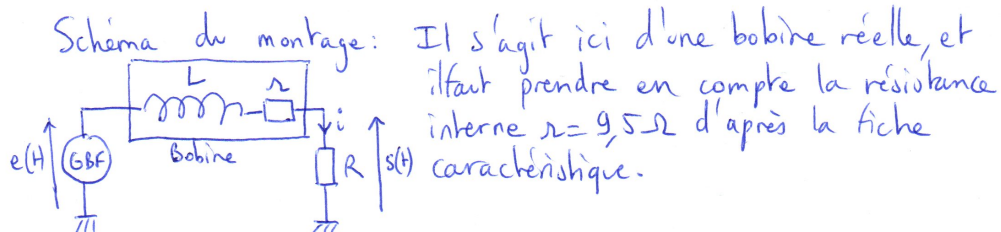


Corrigé du DS1 (CCP - e3a)
2024-2025

1 Résolution de problème - Détermination d'une inductance



Essayons tout d'abord d'interpréter la figure a), qui correspond à la réponse à un échelon de tension $E = 2V$.

Loi des mailles: $e(t) = (R+r)i + L \frac{di}{dt}$ et $s(t) = Ri(t)$.

donc $e(t) = \left(\frac{R+r}{R}\right)s(t) + \frac{L}{R} \frac{ds(t)}{dt}$

Pour $t > 0$, la forme canonique s'écrit: $\frac{ds}{dt} + \left(\frac{R+r}{L}\right)s = \frac{ER}{L}$

d'où $s(t) = \frac{RE}{R+r} + A e^{-t/\tau}$ avec $\tau = \frac{L}{R+r}$

or à $t=0^-$, le courant est nul, donc $s(t=0^+) = Ri(t=0^+) = 0$ par continuité du courant dans la bobine.

On en déduit $s(t=0^+) = \frac{RE}{R+r} + A = 0 \Rightarrow A = -\frac{RE}{R+r}$.

Finalement, pour $t > 0$, $s(t) = \frac{RE}{R+r} \left[1 - e^{-\frac{t}{\tau}} \right]$

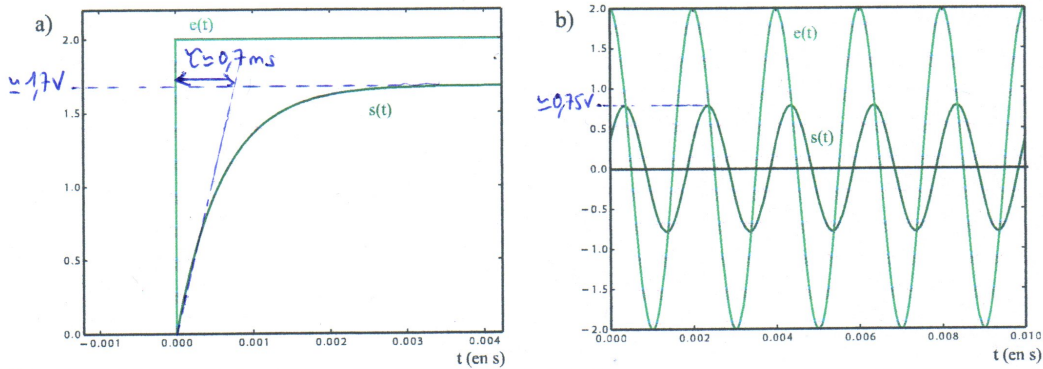
on voit que $s(t \rightarrow +\infty) = \frac{RE}{R+r} < E$

On lit $\frac{RE}{R+r} = 1,7V$, d'où $\frac{R}{R+r} = 0,85$, soit $r = \frac{R(1-0,85)}{0,85} = 9 \Omega$ (module $r = 9,5 \Omega$)

on obtient bien un résultat cohérent.

On peut également lire $\tau = 0,7ms$, or $\tau = \frac{L}{R+r}$, donc

$L = 0,7 \cdot 10^{-3} \times (59) = 41 \text{ mH}$ (module $L = 36,6 \text{ mH}$)
On obtient bien une valeur cohérente avec celles utilisées en TP.



Étudions maintenant le second graphique (un seul suffit pour répondre à la question posée).

$$\underline{H} = \frac{R}{R+r+jL\omega} = \frac{\frac{R}{R+r}}{1+j\frac{L\omega}{R+r}} = \frac{H_0}{1+j\frac{\omega}{\omega_c}} \quad \text{avec } H_0 = \frac{R}{R+r} \quad \text{et } \omega_c = \frac{R+r}{L}$$

Donc avec une excitation sinusoïdale,

$$s(t) = |H| E \cos(\omega t + \text{Arg}(H))$$

$$= \frac{R E}{R+r} \cos\left(\omega t - \text{Arctan}\left(\frac{L\omega}{R+r}\right)\right)$$

$$\frac{1}{\sqrt{1+\left(\frac{L\omega}{R+r}\right)^2}}$$

On peut donc exploiter l'amplitude ou la phase pour en déduire L :

Amplitude: on lit $\frac{R E}{R+r} \frac{1}{\sqrt{1+\left(\frac{L\omega}{R+r}\right)^2}} = 0,75V$, où $\omega = 2\pi f$, avec

$$f = \frac{1}{T} = \frac{1}{2 \cdot 10^{-3}} = 500 \text{ Hz}$$

d'où $\left(\frac{R}{R+r} \times \frac{1}{0,75}\right)^2 = 1 + \frac{L^2 \omega^2}{(R+r)^2} \Rightarrow L = \frac{R+r}{2\pi f} \sqrt{\left[\frac{R}{R+r} \times \frac{1}{0,75}\right]^2 - 1} = 37 \text{ mH}$
 (module $L = 36,6 \text{ mH}$)
 \Rightarrow Résultat cohérent.

Phase: on lit $\Delta t = 0,35 \text{ ms}$ or $T = 2 \text{ ms}$, d'où $\varphi = -\frac{2\pi \Delta t}{T} \approx -1,1 \text{ rad}$.
 ↑
 signal en retard

D'où $L = \frac{R+r}{2\pi f} \tan \varphi = 37 \text{ mH} \Rightarrow$ résultat cohérent (+ simple que l'amplitude).

2 Un analyseur de Fourier très simplifié (d'après CAPES 2005)

2.1 Quelques généralités

- Notons $s_1(t)$ et $s_2(t)$ les signaux de sortie correspondant respectivement aux signaux d'entrée $e_1(t)$ et $e_2(t)$. **Un système est dit linéaire si la réponse au signal d'entrée $e(t) = \lambda e_1(t) + \mu e_2(t)$ ($\lambda, \mu \in \mathbb{R}^2$) est $s(t) = \lambda s_1(t) + \mu s_2(t)$.**
- (a) **Le système 1 est linéaire** : il agit séparément sur chaque fréquence, sans en générer de nouvelles. C'est un **filtre passe-bas** (hautes-fréquences supprimées) de fréquence de coupure de l'ordre de $f_c = 3$ kHz.
- (b) **Le système 2 est linéaire** : c'est un filtre passe-bande de fréquence centrale de l'ordre de $f_0 = 3$ kHz et de bande passante $\Delta f \approx 2$ kHz.
Le système 3 n'est pas linéaire car des signaux de fréquences 500 Hz et 3,5 kHz apparaissent en sortie à partir d'un signal qui n'en contient pas.

2.2 Filtres peu sélectifs

- À basse fréquence un condensateur se comporte comme un coupe-circuit. A haute fréquence un condensateur se comporte comme un fil.

Montage RC

BF : $v_s = v_e - Ri = v_e$; HF : $v_s = 0$ donc filtre passe bas.

Montage CR

BF : $v_s = Ri = 0$; HF : $v_s = v_e$ donc filtre passe haut.

- Filtre RC :

$$\frac{v_s}{v_e} = \frac{Z_c}{Z_c + R} = \frac{1}{1 + RY_c} \Rightarrow \boxed{\frac{v_s}{v_e} = \frac{1}{1 + jRC\omega}}$$

Filtre CR :

$$\frac{v_s}{v_e} = \frac{R}{Z_c + R} \Rightarrow \boxed{\frac{v_s}{v_e} = \frac{jRC\omega}{1 + jRC\omega}}$$

- Voir figures 1 et 2.

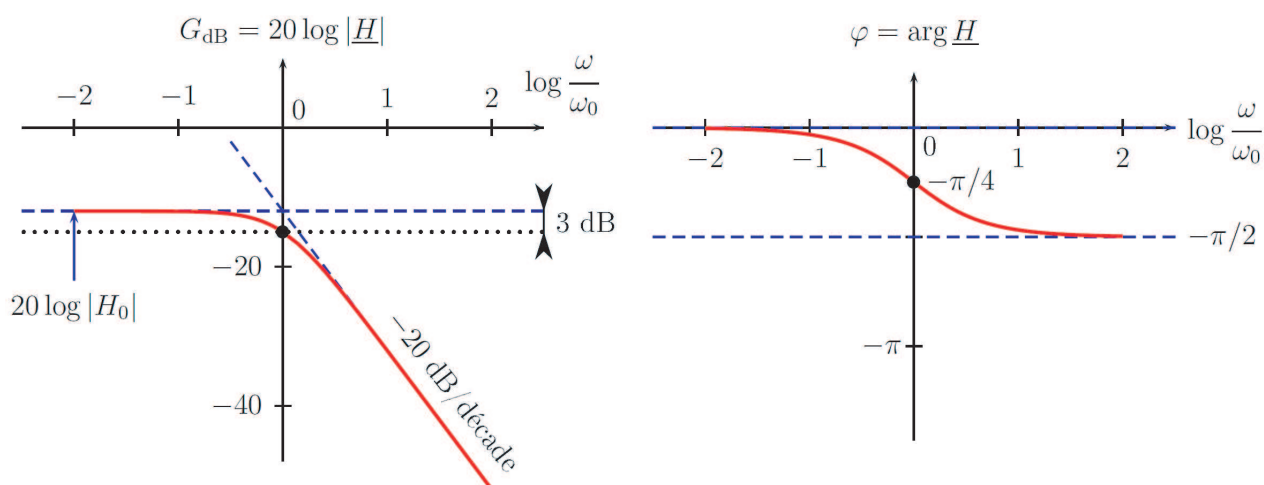


FIGURE 1 – Diagramme de Bode du filtre RC.

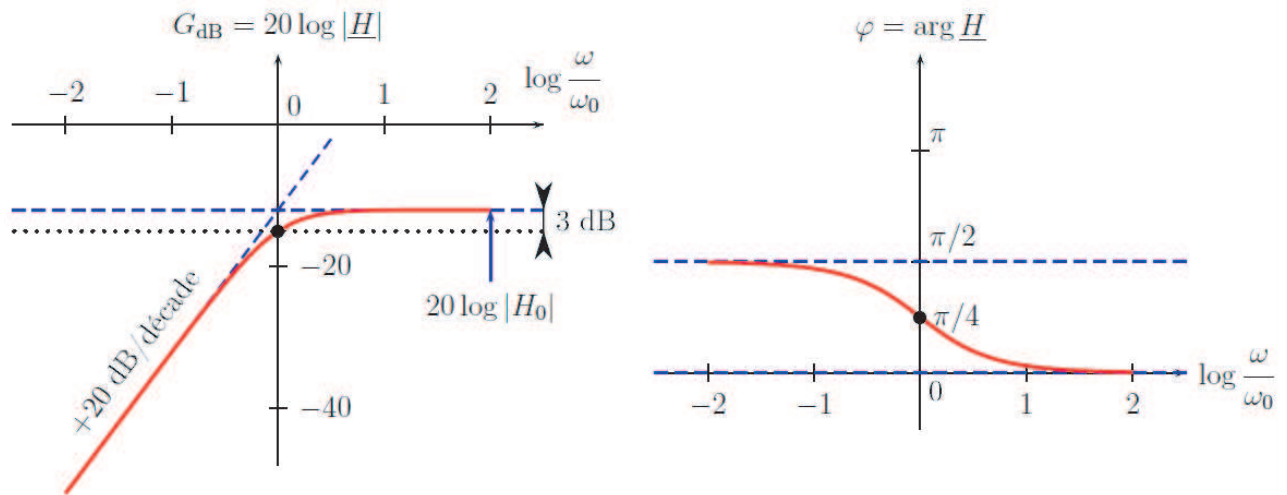
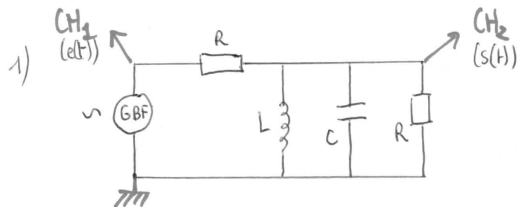


FIGURE 2 – Diagramme de Bode du filtre CR.

4. (a) C'est un filtre dérivateur à basse fréquence et qui ne modifie pas le signal à haute fréquence. Il s'agit d'un passe haut avec une fréquence de coupure de l'ordre de quelques centaines de Hz (on peut voir que le temps de montée est de l'ordre de $\tau = 1ms$, et $f_c = \frac{1}{2\pi\tau}$).
- (b) C'est un filtre intégrateur à haute fréquence et qui ne modifie pas le signal à basse fréquence. Il s'agit d'un passe bas. Là encore, le temps de montée est de l'ordre de $\tau = 1ms$, et la fréquence de coupure est de l'ordre de quelques centaines de Hz .

2.3 Filtre sélectif

1.3) Filtre sélectif



CH₁ et CH₂ sont les bornes d'entrée de l'oscilloscope.

- 2) Afin d'étudier le comportement en fréquence du circuit, on peut :
- soit faire varier "à la main" la fréquence délivrée par le GBF, et mesurer l'amplitude et la phase de la tension de sortie.
 - soit utiliser le mode modulation du GBF (le GBF délivre alors un signal sinusoïdal dont la fréquence varie lentement et linéairement avec le temps). On observe alors, en mode XY, la tension de sortie en fonction de la fréquence (la sortie "SWEEP OUT" du GBF fournit un signal linéaire avec la fréquence).
- 3) D'après le théorème de Fourier, tout signal périodique se décompose en une combinaison linéaire de signaux sinusoïdaux. Le filtre étant linéaire, il agit indépendamment sur chaque fréquence. Le signal de sortie est alors la somme des réponses pour chaque fréquence.
- 4) On applique un pont diviseur de tension ($\frac{1}{Z_{eq}} = \frac{1}{R} + \frac{1}{jL\omega}$)
- $$\underline{H} = \frac{s}{e} = \frac{Z_{eq}}{R + Z_{eq}} = \frac{1}{1 + \frac{R}{Z_{eq}}} = \frac{1}{1 + 1 + \frac{R}{jL\omega} + jRL\omega}$$

$$\underline{H} = \frac{1/2}{1 + jRL\omega - j\frac{R}{2L\omega}} ; \text{ on reconnaît un passe-bande}$$

et on peut identifier avec la forme canonique:

$$\underline{H} = \frac{H_0}{1 + jQ \left(\frac{\omega}{\omega_0} - \frac{\omega_0}{\omega} \right)} \quad \text{avec} \quad \begin{cases} H_0 = 1/2 \\ \frac{RC}{2} = \frac{Q}{\omega_0} \\ \frac{R}{2L} = Q\omega_0 \end{cases} \Rightarrow \begin{cases} H_0 = 1/2 \\ \omega_0 = \frac{1}{\sqrt{LC}} \\ Q = \frac{R\omega_0}{2} = \frac{R}{2} \sqrt{\frac{C}{L}} \end{cases}$$

5) Les pulsations de coupure sont définies par:

$$G(\omega_c) = \frac{G_{\max}}{\sqrt{2}}, \quad \text{soit} \quad \frac{1}{\sqrt{1 + Q^2 \left(\frac{\omega_c}{\omega_0} - \frac{\omega_0}{\omega_c} \right)^2}} = \frac{1}{\sqrt{2}}$$

En posant $x = \frac{\omega_c}{\omega_0}$, on obtient $1 + Q^2 \left(x - \frac{1}{x} \right)^2 = 2$.

soit $Q^2 \left(x - \frac{1}{x} \right)^2 = 1 \Rightarrow x - \frac{1}{x} = \pm \frac{1}{Q} \Rightarrow x^2 \pm \frac{x}{Q} - 1 = 0$

Dans les 2 cas \pm , on a $\Delta = \frac{1}{Q^2} + 4 > 0 \Rightarrow 2$ racines réelles.

Dans le cas \oplus ($x^2 + \frac{x}{Q} - 1 = 0$): $x = \frac{-1}{2Q} \oplus \frac{1}{2} \sqrt{4 + \frac{1}{Q^2}}$ solution qui conduit à $x > 0$

$$\Rightarrow x_1 = \frac{\omega_{c1}}{\omega_0} = \frac{-1}{2Q} + \frac{1}{2} \sqrt{4 + \frac{1}{Q^2}} \Rightarrow \omega_{c1} = \frac{-\omega_0}{2Q} + \frac{\omega_0}{2} \sqrt{4 + \frac{1}{Q^2}}$$

Dans le cas \ominus ($x^2 - \frac{x}{Q} - 1 = 0$): $x = \frac{1}{2Q} \ominus \frac{1}{2} \sqrt{4 + \frac{1}{Q^2}}$ solution qui conduit à $x > 0$

$$\Rightarrow x_2 = \frac{\omega_{c2}}{\omega_0} = \frac{1}{2Q} - \frac{1}{2} \sqrt{4 + \frac{1}{Q^2}} \Rightarrow \omega_{c2} = \frac{\omega_0}{2Q} - \frac{\omega_0}{2} \sqrt{4 + \frac{1}{Q^2}}$$

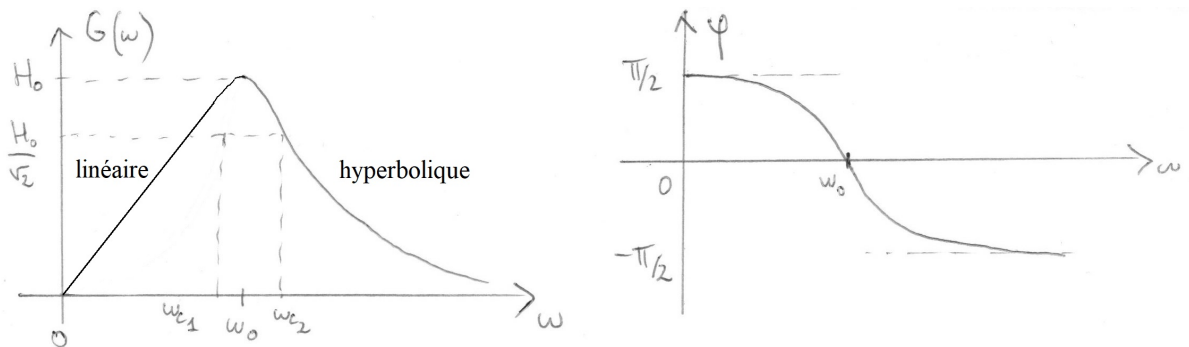
Finalement, on peut en déduire l'expression de la bande passante:

$$\Delta\omega = \omega_{c2} - \omega_{c1} = \frac{\omega_0}{Q}$$

6) $G = \frac{H_0}{\sqrt{1 + Q^2 \left(x - \frac{1}{x} \right)^2}}$

	G	Ψ
$x \rightarrow 0$	0	$\pi/2$
$x \rightarrow 1$	H_0	0
$x \rightarrow \infty$	0	$-\pi/2$

$\Psi = -\arctan \left[Q \left(x - \frac{1}{x} \right) \right]$



2.4 Analyseur de Fourier élémentaire

1. Ce sont les harmoniques du signal.
2. Le filtre est très sélectif ($Q = 20$) et ne sélectionne que la composante oscillant à la pulsation $\omega_0 = 2\pi f_0$, sans ajouter de déphasage ($\varphi = 0$) et en multipliant l'entrée par $1/2$ car $H_0 = \frac{1}{2}$, soit $s(t) = \frac{E}{\pi} \cos(2\pi f_0 t)$.
C'est un signal purement sinusoïdal.
3. En reprenant les expressions précédentes de Q et ω_0 , on obtient :

$$C = \frac{Q}{\pi f} = 2.1 \mu F \quad \text{et} \quad L = \frac{R}{4\pi Q f} = 1.3 mH$$

Pour choisir la résistance, il faut qu'elle soit suffisamment grande devant la résistance de sortie du GBF, et suffisamment petite devant celle de l'oscilloscope, afin que le calcul de la fonction de transfert soit valable. On a donc :

$$50 \Omega \ll R \ll 1 M\Omega$$

4. Il suffit de modifier la fréquence de résonance f_0 du filtre passe bande en jouant sur les valeurs des composants. On notera que les filtres utilisés dans les véritables analyseurs de spectre sont fabriqués différemment, de sorte que le facteur de qualité reste constant lorsque la fréquence sélectionnée est modifiée.