

# Mouvements courbes

## Sommaire

<b>I Mouvement courbe dans un plan</b> . . . . .	<b>3</b>
I/A Position en coordonnées polaires . . . . .	3
I/B Variation temporelle des vecteurs de base . . . . .	3
I/C Déplacement élémentaire en polaires . . . . .	4
I/D Vitesse en coordonnées polaires . . . . .	5
I/E Accélération . . . . .	5
<b>II Exemples de mouvements plans</b> . . . . .	<b>6</b>
II/A Mouvement circulaire . . . . .	6
II/B Mouvement circulaire uniforme . . . . .	6
II/C Repère de FRENET . . . . .	6
<b>III Application : pendule simple</b> . . . . .	<b>7</b>
III/A Tension d'un fil . . . . .	7
III/B Pendule simple . . . . .	8
<b>IV Mouvement courbe dans l'espace</b> . . . . .	<b>9</b>
IV/A Coordonnées cylindriques . . . . .	9
IV/B Coordonnées sphériques . . . . .	10

## Capacités exigibles

- |  |   |
|--|---|
| <ul style="list-style-type: none"> <li><input type="checkbox"/> Identifier les degrés de liberté d'un mouvement. Choisir un système de coordonnées adapté au problème.</li> <li><input type="checkbox"/> Vitesse et accélération dans le repère de Frenet pour une trajectoire plane.</li> <li><input type="checkbox"/> Coordonnées cylindriques : exprimer à partir d'un schéma le déplacement élémentaire, construire le trièdre local associé et en déduire géométriquement les composantes du vecteur vitesse.</li> <li><input type="checkbox"/> Établir les expressions des composantes des vecteurs position, déplacement élémentaire, vitesse et accélération en coordonnées cylindriques.</li> </ul> | <ul style="list-style-type: none"> <li><input type="checkbox"/> Mouvement circulaire uniforme et non uniforme : exprimer les composantes du vecteur position, du vecteur vitesse et du vecteur accélération en coordonnées polaires planes.</li> <li><input type="checkbox"/> Exploiter les liens entre les composantes du vecteur accélération, la courbure de la trajectoire, la norme du vecteur vitesse et sa variation temporelle.</li> <li><input type="checkbox"/> Établir l'équation du mouvement du pendule simple. Justifier l'analogie avec l'oscillateur harmonique dans le cadre de l'approximation linéaire.</li> </ul> |
|--|---|

---

 ✓ L'essentiel
 

---

 ☰ Définitions
 

---

- M3.1 : Coordonnées polaires . . . . . 3
- M3.2 : Mouvement circulaire . . . . . 6
- M3.3 : Mouvement circulaire uniforme . . . . . 6
- M3.4 : Repère de FRENET . . . . . 6
- M3.5 : Tension d'un fil . . . . . 7
- M3.6 : Coordonnées cylindriques . . . . . 9
- M3.7 : Repère sphérique . . . . . 11

 ⚙️ Propriétés
 

---

- M3.1 : Lien polaires/cartésiennes . . . . . 3
- M3.2 : Dérivées de  $\vec{u}_r$  et  $\vec{u}_\theta$  . . . . . 4
- M3.3 : Déplacement élémentaire polaire . . . . . 4
- M3.4 : Vitesse en polaires . . . . . 5
- M3.5 : Accélération en polaires . . . . . 5
- M3.6 : Vitesse et accélération FRENET . . . . . 6
- M3.7 : Mouvement d'un pendule simple . . . . . 8
- M3.8 : Bilan : coordonnées cylindriques . . . . . 10
- M3.9 : Déplacement élémentaire sphérique . . . . . 11

 ≡ Démonstrations
 

---

- M3.1 : Lien polaires/cartésiennes . . . . . 3
- M3.2 : Dérivées de  $\vec{u}_r$  et  $\vec{u}_\theta$  . . . . . 4
- M3.3 : Déplacement élémentaire polaire . . . . . 5
- M3.4 : Vitesse en polaires . . . . . 5
- M3.5 : Accélération en polaires . . . . . 5
- M3.6 : Vitesse et accélération FRENET . . . . . 7
- M3.7 : Mouvement pendule simple . . . . . 8

 ✍️ Applications
 

---

- M3.1 : Mesure de  $g$  par un pendule . . . . . 9

 📌 Remarques
 

---

- M3.1 : Cas limites repère de FRENET . . . . . 7
- M3.2 : Pendule simple grands angles . . . . . 9
- M3.3 : Volume élémentaire cylindriques . . . . . 10
- M3.4 : Lien sphériques/cartésiennes . . . . . 11
- M3.5 : Volume élémentaire sphériques . . . . . 12

 📄 Exemples
 

---

- M3.1 : Mouvement circulaire uniforme . . . . . 6
- M3.2 : Repérage sphérique sur Terre . . . . . 11

 🔧 Outils
 

---

- M3.1 : Dérivée composée en physique . . . . . 3

 ⚠️ Erreurs communes
 

---

- M3.1 : Variables vs. coordonnées . . . . . 3
  - M3.2 : Choix des coordonnées . . . . . 10
-

# I Mouvement courbe dans un plan

## I/A Position en coordonnées polaires

### ♥ Définition M3.1 : Coordonnées polaires

Le repère polaire est constitué d'une origine O autour de laquelle sont définis deux vecteurs  $\vec{u}_r$  et  $\vec{u}_\theta$  tels que :

- ◇
- ◇
- ◇

$\vec{u}_r$  et  $\vec{u}_\theta$  dépendent de  $\theta(t)$  donc du temps

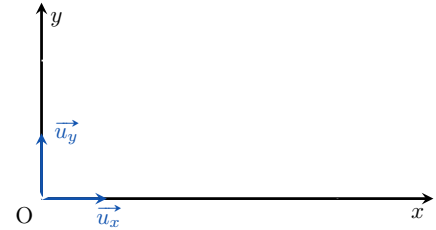


FIGURE M3.1 – Polaires

### ! Attention M3.1 : Variables vs. coordonnées

Il faut opérer la distinction entre les **variables** servant à repérer le point et les **coordonnées** dans la base de projection. Ici, les variables sont  $r(t)$  et  $\theta(t)$ , mais dans la base  $(\vec{u}_r, \vec{u}_\theta)$ , on a

$$\vec{OM}(t) = \begin{pmatrix} r(t) \\ 0 \end{pmatrix} = r(t) \vec{u}_r \quad \text{ET PAS} \quad \vec{OM}(t) = \begin{pmatrix} r(t) \\ \theta(t) \end{pmatrix} = r(t) \vec{u}_r + \theta(t) \vec{u}_\theta$$

pas homogène!

### ♥ Propriété M3.1 : Lien polaires/cartésiennes

Les vecteurs  $\vec{u}_r$  et  $\vec{u}_\theta$  variables se décomposent sur  $\vec{u}_x$  et  $\vec{u}_y$  fixes tels que

et

d'où en cartésiennes pour un point M :

et

soit

### ☰ Démonstration M3.1 : Lien polaires/cartésiennes

On projette les vecteurs de la base polaire sur la base cartésienne en appliquant la méthode de vraisemblance ou par définition du produit scalaire, d'où la propriété. On a alors :

## I/B Variation temporelle des vecteurs de base

### ♥ Outils M3.1 : Dérivée composée en physique

En physique, on a l'habitude (mathématiquement valable) de penser les dérivées comme des fractions. Ainsi, on peut traiter la dérivée d'une composition en faisant intervenir d'autres

dérivée par une écriture fractionnaire. Par exemple :

### ♥ Propriété M3.2 : Dérivées de $\vec{u}_r$ et $\vec{u}_\theta$

La variation temporelle des vecteurs de la base polaire est :

et

### Démonstration M3.2 : Dérivées de $\vec{u}_r$ et $\vec{u}_\theta$

#### Géométriquement

On représente les deux vecteurs après un petit temps  $dt$ , c'est-à-dire augmentés d'un angle  $d\theta$  :

et

Soit

et

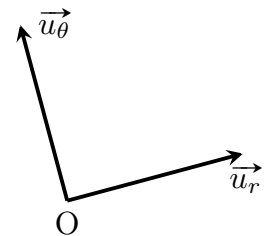


FIGURE M3.2 –  
 $d\vec{u}_r$  et  $d\vec{u}_\theta$

#### Mathématiquement

On part des décompositions dans la base cartésienne et on dérive :



## I/C Déplacement élémentaire en polaires

### ♥ Propriété M3.3 : Déplacement élémentaire polaire

En coordonnées polaires, le déplacement élémentaire s'exprime

**Démonstration M3.3 : Déplacement élémentaire polaire**

On trouve la composante de  $d\vec{OM}$  sur  $\vec{u}_r$  en fixant  $\theta$  et on incrémente la variable  $r$  de  $dr$ .

La distance ainsi obtenue est \_\_\_\_\_

On trouve la composante de  $d\vec{OM}$  sur  $\vec{u}_\theta$  en fixant  $r$  et on incrémente la variable  $\theta$  de  $d\theta$ .

La distance ainsi obtenue est \_\_\_\_\_

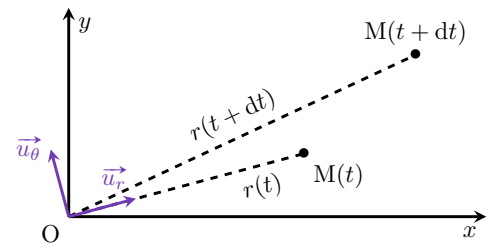


FIGURE M3.3 –  $d\vec{OM}$  polaire

**I/D Vitesse en coordonnées polaires****♥ Propriété M3.4 : Vitesse en polaires**

La vitesse en coordonnées polaires s'écrit

**Démonstration M3.4 : Vitesse en polaires**

Ici aussi, il y a deux manières d'obtenir l'expression de la vitesse.

Dérivée

Rapport

**I/E Accélération****♥ Démonstration M3.5 : Accélération en polaires**

Par définition,

**♥ Propriété M3.5 : Accélération en polaires**

Finalement, la vitesse en coordonnées polaires s'écrit

## II Exemples de mouvements plans

### II/A Mouvement circulaire

#### ♥ Définition M3.2 : Mouvement circulaire

Un mouvement est dit **circulaire** s'il se fait dans un plan, à une distance de l'axe de rotation  $r$  constante, soit

#### Implication M3.1 : Mouvement circulaire

Dans ce cas-là, on a

et

En notant  $\omega(t) = \dot{\theta}(t)$  la vitesse angulaire, la vitesse et l'accélération donnent

et

### II/B Mouvement circulaire uniforme

#### ♥ Définition M3.3 : Mouvement circulaire uniforme

Un mouvement est dit **circulaire uniforme** si c'est un mouvement circulaire ( $r(t) = \text{cte}$ ) à *vitesse angulaire constante*, soit

#### Implication M3.2 : Mouvement circulaire uniforme

Dans ce cas,  $\dot{r} = 0 = \ddot{r}$  mais également  $\ddot{\theta} = 0$ , donc la vitesse et l'accélération donnent

et

Exemple M3.1 :



FIGURE M3.4 –  
Mvt. circ. unif.

### II/C Repère de FRENET

#### ♥ Définition M3.4 : Repère de FRENET

Soit un point  $M$  sur une trajectoire courbe d'origine  $O$ . On approxime sa trajectoire à un instant  $t$  par son **cercle osculateur**, de **rayon de courbure**  $R(t)$ . D'où le repère de FRENET :

◇

◇

$\gamma(t) = 1/R(t)$  s'appelle la **courbure** de la trajectoire.

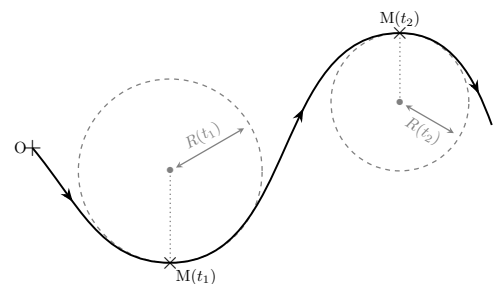


FIGURE M3.5 – FRENET

#### ♥ Propriété M3.6 : Vitesse et accélération FRENET

La vitesse et l'accélération dans le repère mobile de FRENET s'expriment :

et

**Démonstration M3.6 : Vitesse et accélération FRENET**

Soit  $s(t)$  la distance parcourue sur la courbe de la trajectoire  $\mathcal{C}$  depuis l'origine  $O$ . On l'appelle **abscisse curviligne**, telle que

$$s(t) = \int_{\mathcal{C}} ds$$

**Vitesse**

**Accélération**

On a

Or,

D'où

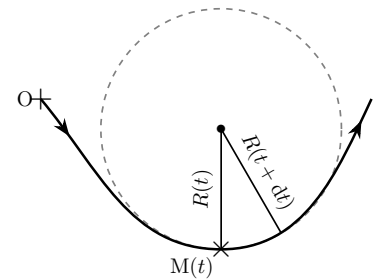


FIGURE M3.6 –  $d\vec{u}_T$

**Remarque M3.1 : Cas limites repère de FRENET**

- ◇ On retrouve le mouvement rectiligne uniforme avec  $R = +\infty \Leftrightarrow \gamma = 0$ , puisqu'on a alors  $\vec{a} = \frac{dv}{dt} \vec{u}_T$  avec  $\vec{u}_T$  dans le sens de la trajectoire.
- ◇ On retrouve également le mouvement circulaire puisque dans ce cas la trajectoire **est** le cercle osculateur, donc  $\vec{u}_T = \vec{u}_\theta$  et  $\vec{u}_N = -\vec{u}_r$ .

**III Application : pendule simple**

**III/A Tension d'un fil**

**♥ Définition M3.5 : Tension d'un fil**

Un point matériel  $M$  accroché à un fil tendu subit de la part de ce fil une force appelée **tension du fil** et notée  $\vec{T}$  telle que

avec  $\vec{u}_r$  un vecteur unitaire dirigé du point d'accroche vers  $M$ .

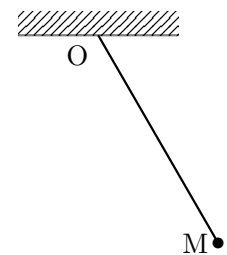


FIGURE M3.7

**♥ Implication M3.3 : Condition de tension**

### III/B Pendule simple

#### ♥ Propriété M3.7 : Mouvement d'un pendule simple

Soit un point matériel M de masse  $m$  accrochée au bout d'un fil de longueur  $\ell = \text{cte}$  dans le champ de pesanteur  $\vec{g}$ . On l'écarte de la verticale d'un angle  $\theta_0 \neq 0$  avec une vitesse initiale nulle. Pour  $\theta_0$  suffisamment faible, on obtient

Équation différentielle

Solution

#### ♥ Démonstration M3.7 : Mouvement pendule simple

1 Système : {masse} repérée par M

2 Schéma.

3 Modélisation.

- ◇ Référentiel :
- ◇ Repère :
- ◇ Repérage :

◇ Conditions initiales :

4 Bilan des forces.

5 PFD.

6 Équations scalaires. On projette le PFD sur les axes :

qui constitue l'équation du mouvement du pendule. Sous cette forme, elle est **non-linéaire** donc non résoluble analytiquement ; elle peut l'être numériquement, voir Capytale<sup>a</sup>. En revanche, dans l'approximation des petits angles, on a  $\sin(\theta) \approx \theta$ , et ainsi on obtient :

C'est

!

7 Résolution. On a la solution générale homogène :

or

et

Finalement

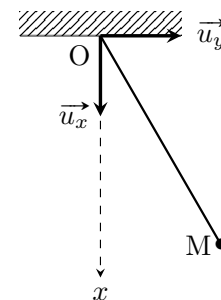


FIGURE M3.8 – Schéma.



**Remarque M3.2 : Pendule simple grands angles**

Dans cette approximation, la période ne dépend **ni de la masse, ni de l'angle initial**. En réalité, si on s'écarte beaucoup de la verticale ( $|\theta| > \pi/4$ ), la période change et n'est plus celle que l'on a aux petits angles. Voir le changement sur le graphique ci-dessous et [en ligne](#).

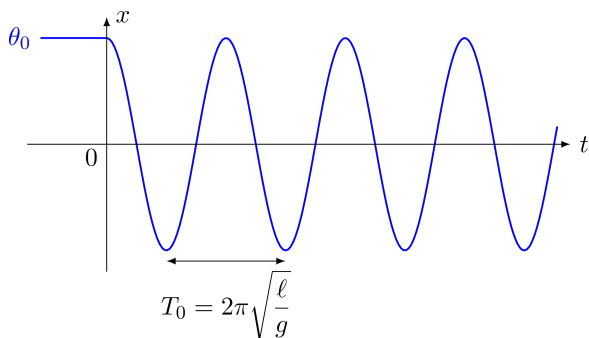


FIGURE M3.9 –  $\theta(t)$  pour petits angles.

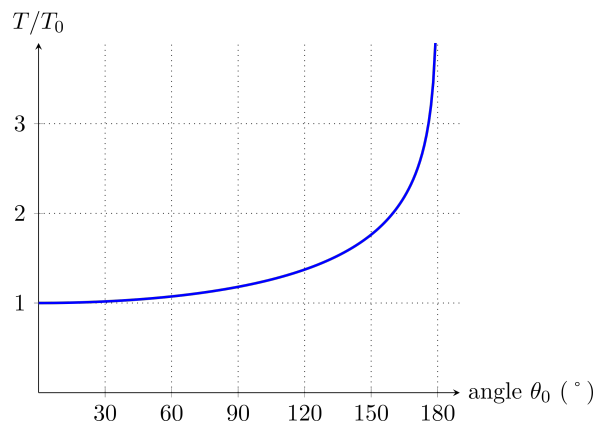


FIGURE M3.10 – Évolution de  $T$  selon  $\theta_0$ .

**Application M3.1 : Mesure de  $g$  par un pendule**

Déterminer l'accélération de la pesanteur  $g$  par l'expérience du pendule simple. Ainsi, avec un fil de longueur  $\ell = (0,84 \pm 0,06)$  cm, on mesure une période de  $T_0 =$  .

**IV Mouvement courbe dans l'espace**

**IV/A Coordonnées cylindriques**

**Définition M3.6 : Coordonnées cylindriques**

Le repère cylindrique est constitué d'une origine  $O$  autour de laquelle sont définis trois vecteurs  $(\vec{u}_r, \vec{u}_\theta, \vec{u}_z)$ , avec

- ◇
- ◇
- ◇
- ◇

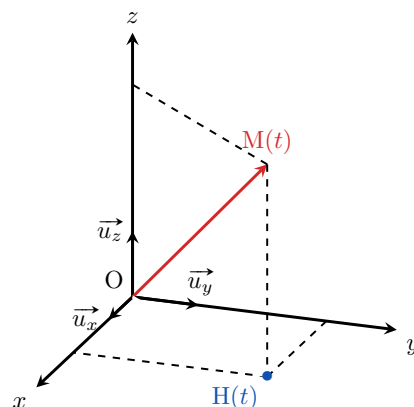


FIGURE M3.11 – Cylindriques.

a. <https://capitale2.ac-paris.fr/web/c/a7c5-1241282>

La détermination de la vitesse et de l'accélération est la même qu'en polaires, il suffit d'ajouter les dérivées de  $z$  puisque  $\vec{u}_z$  est fixe dans le temps. Ainsi,

### ♥ Propriété M3.8 : Bilan : coordonnées cylindriques

- ◇ Variables :
- ◇ Vecteurs de base :
- ◇ Position :
- ◇ Vitesse :
- ◇ Déplacement élém. :
- ◇ Accélération :

### Remarque M3.3 : Volume élémentaire cylindriques

Une conséquence fondamentale du déplacement élémentaire est de pouvoir définir une surface et un volume infinitésimaux suivant une variation infinitésimale des trois coordonnées.

En effet, pour une petite variation  $(dr, d\theta, dz)$ , on se déplace de  $dr$  dans la direction  $\vec{u}_r$ , de  $dz$  dans la direction  $\vec{u}_z$  et l'arc de cercle formé par la variation d'angle  $d\theta$  est de longueur  $r d\theta$ .

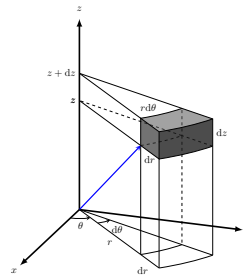


FIGURE M3.12 –  $dV$  cylindriques.

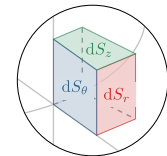
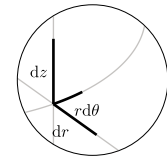


FIGURE M3.13 – Zoom volume.

Le volume élémentaire est alors le **produit des trois composantes de  $d\vec{OM}$**  :

On trouve le volume d'un cylindre de rayon  $R$  et de hauteur  $h$  en intégrant sur les trois coordonnées :

C'est l'aire d'un disque multiplié par la hauteur !

### ♥ Attention M3.2 : Choix des coordonnées

Dans un problème de mécanique, on choisit les coordonnées judicieusement en fonction des symétries du système. **Sauf proposition de l'énoncé**, on utilisera les coordonnées **cylindriques** pour les mouvements de **rotation**. On utilisera les coordonnées cartésiennes sinon.

## IV/B Coordonnées sphériques

La manière la plus complète de décrire un mouvement général dans l'espace repose sur un dernier système de coordonnées, les coordonnées **sphériques**.

♥ Définition M3.7 : Repère sphérique

Le repère sphérique est constitué d'une origine O autour de laquelle sont définis trois vecteurs,  $(\vec{u}_r, \vec{u}_\theta, \vec{u}_\varphi)$ , tels que

avec  $\vec{u}_r \cdot \vec{u}_\theta = 0$  et  $\vec{u}_r \cdot \vec{u}_\varphi = 0$

où  $(\cdot, \cdot)$  est l'angle orienté, et  $H(t)$  le projeté orthogonal de  $M(t)$  sur le plan polaire.

⚠  $\varphi(t)$  correspond à  $\theta(t)$  des coordonnées polaires.

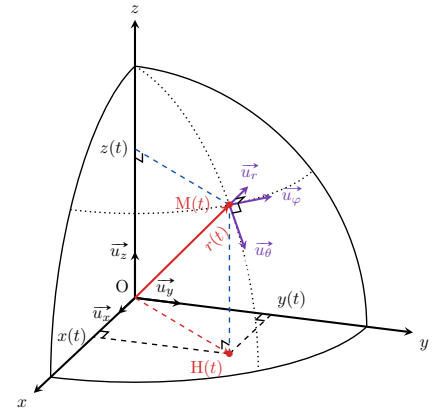


FIGURE M3.14 – Sphériques.

Remarque M3.4 : Lien sphériques/cartésiennes

On peut inverser les définitions. En effet,

$$r \cos \theta = z$$

$$r \sin \theta \cos \varphi = x$$

$$r \sin \theta \sin \varphi = y$$

Notation M3.1 : Coordonnées sphériques

◇  $\theta \in [0 ; \pi]$  est nommé **colatitude** ( $\lambda = |\pi/2 - \theta|$  la latitude) , et respecte

◇  $\varphi \in [0 ; 2\pi]$  est nommé **longitude**, et respecte

◇ Une courbe  $\theta(t) = \text{cte}$  est appelée **parallèle** ; le **rayon** d'un parallèle est \_\_\_\_\_.

◇ Une courbe  $\varphi(t) = \text{cte}$  est appelée **méridien** ; le **rayon** d'un méridien est \_\_\_\_\_.

Exemple M3.2 : Repérage sphérique sur Terre

Le repérage sur la Terre utilise la latitude et la longitude. Par exemple, le lycée POTHIER se situe à 47,90°N, 1,90°E ; on a donc

♥ Propriété M3.9 : Déplacement élémentaire sphérique

◇ Variation  $dr \Rightarrow$  déplace<sup>t</sup>  $dr \vec{u}_r$  ;

◇ Variation  $d\theta \Rightarrow$  déplace<sup>t</sup>  $r d\theta \vec{u}_\theta$  ;

◇ Variation  $d\varphi \Rightarrow$  déplace<sup>t</sup>  $r \sin \theta d\varphi \vec{u}_\varphi$ .

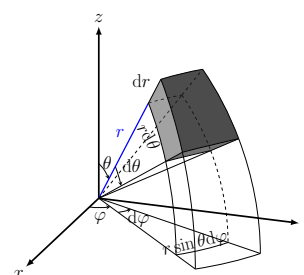


FIGURE M3.15 –  $d\vec{OM}$  sphériques

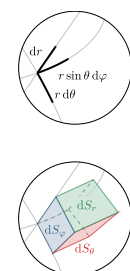


FIGURE M3.16 – Zoom volume.

**Remarque M3.5 : Volume élémentaire sphériques**

On trouve de la même manière le volume élémentaire :

Il permet de déterminer le volume d'une boule :