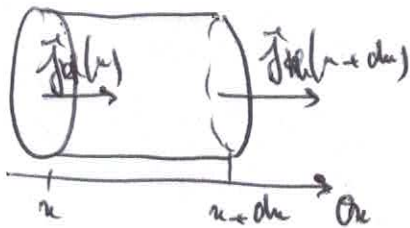


Correction : igloo

Q1. La loi de Fourier s'écrit : $\vec{j}_k = -\lambda \text{ grad } T$

Elle montre que la diffusion thermique se fait dans le sens de $-\text{grad } T$ soit des fortes vers les faibles températures. La diffusion est d'autant plus efficace que la conductivité est grande et que les différences de température sont importantes.

Q2. Soit le système infinitésimal de section S compris entre x et $x+dx$. On lui applique le 1^{er} principe de la thermo.



entre t et $t+dt$:

$$dW = \rho c S dx (T(x, t+dt) - T(x, t)) = \delta W + \delta Q$$

$$\text{avec } \delta Q = \underbrace{j_k(x) S dt}_{\text{reçu}} - \underbrace{j_k(x+dx) S dt}_{\text{perdue}}$$

$$\text{et } \delta W = 0$$

$$\text{d'où } \rho c S dx (T(x, t+dt) - T(x, t)) = - [j_k(x+dx) - j_k(x)] S dt$$

avec dx et dt petits :

$$\rho c S dx \frac{\partial T}{\partial t}(x, t) dt = - \frac{\partial j_k}{\partial x}(x, t) dx S dt$$

$$\text{avec } j_k = -\lambda \frac{\partial T}{\partial x}(x, t) \text{ d'après la loi de Fourier}$$

$$\text{d'où } \boxed{\frac{\partial T}{\partial t} = \frac{\lambda}{\rho c} \frac{\partial^2 T}{\partial x^2}}$$

équation de diffusion

$$\text{par identification : } \boxed{D = \frac{\lambda}{\rho c}}$$

$$Q3. [\lambda] = \left[\frac{\| \vec{j}_k \|}{\| \text{grad } T \|} \right] = \frac{J \cdot m^{-2} \cdot s^{-1}}{K \cdot m^{-1}} = J \cdot m^{-1} \cdot K^{-1} \cdot s^{-1}$$

$$[\rho] = kg \cdot m^{-3}$$

$$[c] = \left[\frac{dW}{\rho S dx dt} \right] = \left[\frac{dW}{m dt} \right] = J \cdot K^{-1} \cdot kg^{-1}$$

$$\text{d'où } [\tau] = \left[\frac{\rho c L^2}{\lambda} \right] = \frac{kg \cdot m^{-3} \cdot J \cdot K^{-1} \cdot kg^{-1} \cdot m^2}{J \cdot m^{-1} \cdot K^{-1} \cdot s^{-1}} = s$$

τ est homogène à un temps, c'est le temps caractéristique de diffusion thermique sur une distance L . On voit que τ est proportionnel à L^2 , ce qui traduit que le phénomène n'est pas linéaire. En effet plus la diffusion se produit et plus les Δ de températures sont faibles donc moins la diffusion est efficace.

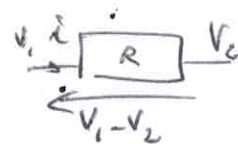
Q4. Quand on change t en $-t$, l'équation de diffusion devient:

$$\frac{\partial T}{\partial (-t)} = D \frac{\partial^2 T}{\partial x^2} \text{ soit } -\frac{\partial T}{\partial t} = D \frac{\partial^2 T}{\partial x^2} \text{ l'équation est donc modifiée}$$

En changeant t en $-t$ revient à inverser le sens du temps. Le fait que l'équation différentielle, lors de ce changement, soit modifiée, traduit que la diffusion est irréversible. On s'y attendait puisque la loi de Fourier dit que la diffusion ne se fait que dans un sens, celui des fortes vers les faibles températures.

Q5. $V_1 - V_2$ est la différence de potentiel qui met en mouvement les charges, l'analogue de cette grandeur est $T_1 - T_2$, différence de températures qui crée le transfert thermique.

En électricité la loi d'Ohm s'écrit: $V_1 - V_2 = R i$



En thermique, par analogie, on a: $T_1 - T_2 = R_{th} \times \Phi_{th}$

Q6. En régime stationnaire, la température ne dépend pas du temps donc l'équation de diffusion $\frac{\partial T}{\partial t} = D \frac{\partial^2 T}{\partial x^2}$ devient $\frac{dT}{dx^2} = 0$ soit $\frac{dT}{dx} = A$ et $T(x) = Ax + B$

On trouve A et B avec les conditions aux limites:

$$T(x=0) = T_1 = B$$

$$T(x=L) = T_2 = AL + T_1 \text{ d'où } A = \frac{T_2 - T_1}{L}$$

$$\text{On a donc: } T(x) = \frac{T_2 - T_1}{L} x + T_1$$

Q7. La puissance thermique qui traverse la surface S en x s'écrit:

$$\Phi_{th}(x) = j_{th}(x) \times S = -\lambda \frac{dT}{dx} \times S = -\lambda S \frac{T_2 - T_1}{L} = \lambda S \frac{T_1 - T_2}{L}$$

loi de Fourier

cette puissance ne dépend pas de x , c'est la même sur toute surface S du matériau

On en déduit la résistance thermique:

$$R_{th} = \frac{T_1 - T_2}{\Phi_{th}} = \frac{L}{\lambda S}$$

quand un matériau est isolant, il est traversé par un faible flux thermique, cela correspond à une grande résistance thermique (elle s'oppose au passage de la puissance thermique) et à une faible valeur de λ .

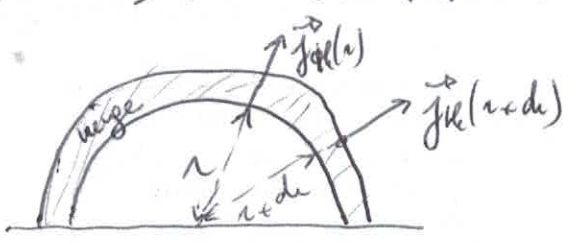
Q8. La résistance conducto-convective est définie par $R_{cc} = \frac{T_s - T_f}{\Phi_{cc}} = \frac{T_s - T_f}{j_{cc} \times S'} = \frac{1}{h S'}$

Q9 - La puissance thermique traversant la demi-sphère s'écrit :

$$P(r) = \underbrace{j_{th}(r)}_{\text{surface de la demi-sphère}} \times 2\pi r^2 = -\lambda \frac{dT}{dr} 2\pi r^2$$

d'après la loi de Fourier : $j_{th} = -\lambda \text{grad } T(r) = -\lambda \frac{dT}{dr}$

Q10 - Soit le système infinitésimal compris entre les demi-sphères de rayons r et $r+dr$ avec $r > R_1$ et $r+dr < R_1+L$:



En régime stationnaire, la température de ce système est constante donc l'énergie thermique reçue est égale à l'énergie thermique perdue

$$\text{soit } P_1(r) dt = P_2(r+dr) dt$$

avec $P_1(r) = P_2(r+dr)$ donc P_1 est constante (donc ne dépend pas de r)

Q11 - On a donc : $P = -\lambda \frac{dT}{dr} 2\pi r^2$ soit après séparation des variables :

$$P \frac{dr}{r^2} = -2\pi \lambda dT$$

On intègre entre $r = R_1$ et $r = R_1+L$:

$$P \int_{R_1}^{R_1+L} \frac{dr}{r^2} = -2\pi \lambda \int_{T(R_1)=T_{int}}^{T(R_1+L)=T_{ext}} dT$$

$$\text{soit } P \left(-\frac{1}{R_1+L} + \frac{1}{R_1} \right) = -2\pi \lambda (T_{ext} - T_{int})$$

$$\text{ou encore } P \left(\frac{R_1 - R_1 - L}{R_1(R_1+L)} \right) = 2\pi \lambda (T_{int} - T_{ext})$$

$$\text{d'où } R_{th} = \frac{T_{int} - T_{ext}}{P} = \frac{L}{2\pi \lambda R_1(R_1+L)}$$

Q12 - Lorsqu'on tance la neige, sa masse volumique augmente et sa conductivité thermique aussi, donc la neige tancée laisse passer plus facilement le transfert thermique : l'isolation de l'igloo est moins bonne.

On dit pour $\rho = 300 \text{ kg m}^{-3}$, $\lambda = 0,2 \text{ W m}^{-1} \text{ K}^{-1}$

$$\text{Avec } R_{th} = \frac{0,3}{2\pi \times 0,2 \times 1,5 \times 1,8} = 8,8 \cdot 10^{-2} \text{ K W}^{-1}$$

Q13 - schéma réel :

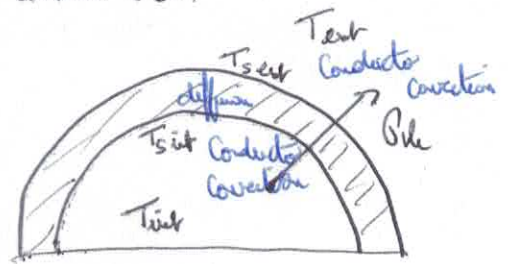
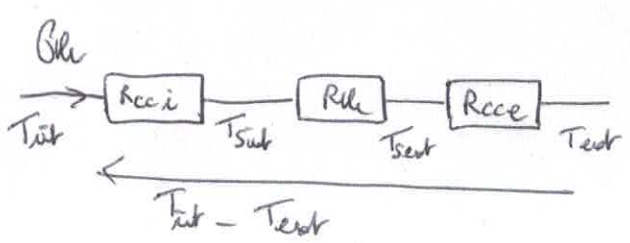


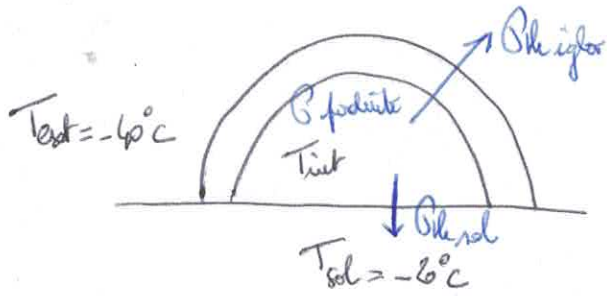
schéma électrique équivalent :



avec $R_{ci} = \frac{1}{h_i 2\pi R_i^2}$, $R_{ce} = \frac{1}{h_e 2\pi (R_i+L)^2}$ et $R_{le} = \frac{L}{2\pi \lambda (R_i+L) R_i}$

La résistance équivalente est $R_{\text{eq}} = R_{ci} + R_{ce} + R_{le}$

Q14- Schéma de la situation :



La température de l'air à l'intérieur de l'igloo est constante (régime stationnaire) donc la puissance reçue par l'air est égale à la puissance perdue par l'air :

$$P = P_{\text{igloo}} + P_{\text{sol}}$$

puissance reçue, produite par les occupants de l'igloo
puissance perdue par le sol et par la neige de l'igloo

avec $P_{\text{igloo}} = \frac{T_{\text{int}} - T_{\text{ext}}}{R_{\text{igloo}}}$ et $P_{\text{sol}} = \frac{T_{\text{int}} - T_{\text{sol}}}{R_{\text{sol}}}$

d'où $P = T_{\text{int}} \left(\frac{1}{R_{\text{igloo}}} + \frac{1}{R_{\text{sol}}} \right) - \frac{T_{\text{ext}}}{R_{\text{igloo}}} - \frac{T_{\text{sol}}}{R_{\text{sol}}}$

d'où $T_{\text{int}} = \frac{P + \frac{T_{\text{ext}}}{R_{\text{igloo}}} + \frac{T_{\text{sol}}}{R_{\text{sol}}}}{\frac{1}{R_{\text{igloo}}} + \frac{1}{R_{\text{sol}}}} = \frac{R_{\text{igloo}} R_{\text{sol}} P + R_{\text{sol}} T_{\text{ext}} + R_{\text{igloo}} T_{\text{sol}}}{R_{\text{sol}} + R_{\text{igloo}}}$

⚠ mettre les températures en Kelvin

Ad: $T_{\text{int}} = 275 \text{ K ou } 2^\circ\text{C}$