

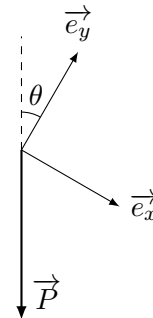
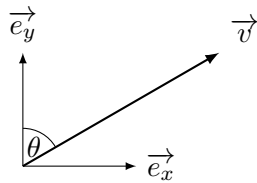
Interrogation de cours #9

Le lundi 1 décembre 2025

Nom :

Prénom :

- ① Projeter le vecteur \vec{v} dans la base (\vec{e}_x, \vec{e}_y) . ② Projeter le vecteur \vec{P} dans la base (\vec{e}_x, \vec{e}_y) .



Sujet A

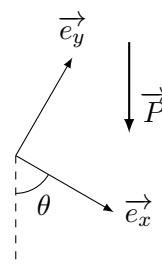
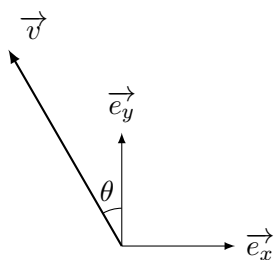
Interrogation de cours #9

Le lundi 1 décembre 2025

Nom :

Prénom :

- ① Projeter le vecteur \vec{v} dans la base (\vec{e}_x, \vec{e}_y) . ② Projeter le vecteur \vec{P} dans la base (\vec{e}_x, \vec{e}_y) .



Sujet B