

Optique ondulatoire et optique géométrique

1. Surfaces d'ondes et théorème de Malus

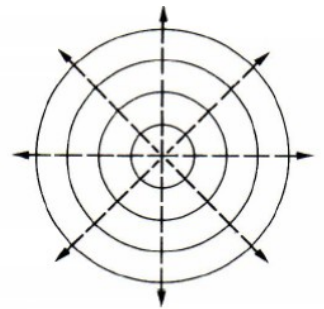
Notion de surface d'onde

On appelle surface d'onde, l'ensemble des points M de l'espace ; tels que le chemin optique parcouru de S à M le long d'un rayon lumineux est constant $(SM) = cte$

$$(SM) = c \tau \text{ avec } \tau, \text{ retard dû à la propagation de S à M}$$

Cette surface correspond donc à **l'ensemble des points atteints en même temps par la lumière issus de S**

Dans un milieu d'indice n, une source lumineuse ponctuelle émet un faisceau lumineux isotrope, les surfaces d'onde sont des sphères, on parle **d'onde sphérique**

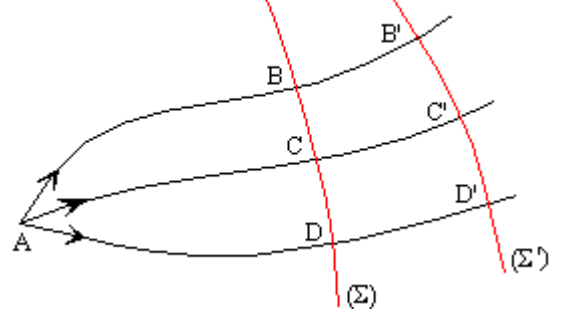


Théorème de Malus (admis)

Tout rayon émis par une source lumineuse est orthogonal à la surface d'onde quel que soit le milieu traversé

Σ et Σ' sont des surfaces d'onde

Milieu non homogène (exemple l'atmosphère)



2. Conséquences

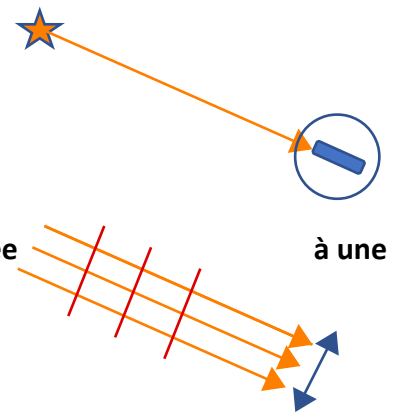
- A source, $(AB) = (AC) = (AD)$
 $(AB') = (AC') = (AD')$
 $(BB') = (CC') = (DD')$

- Ondes planes

Le télescope reçoit un faisceau de rayon parallèles

Les surfaces d'onde sont planes, l'onde est dite **plane**

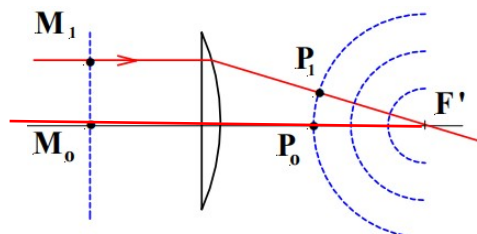
Très loin d'une source ponctuelle, l'onde sera localement assimilée à une onde plane

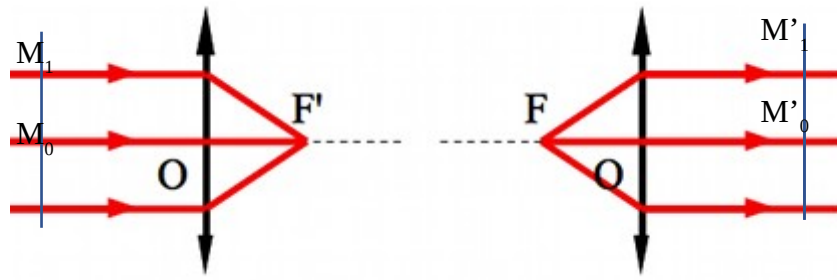


- Rôle d'une lentille

L'onde plane en amont devient sphérique près traversée de la lentille

$$(M_1P_1) = (M_0P_0), (P_1F') = (P_0F') \text{ alors } (M_1F') = (M_0F')$$





$(M_1F') = (M_0F')$ selon le principe du retour inverse de la lumière $(FM_1') = (FM_0')$

Montage pratique : le spectroscopie à réseau

site à visiter : https://physique.ensc-rennes.fr/tp_spectro.php

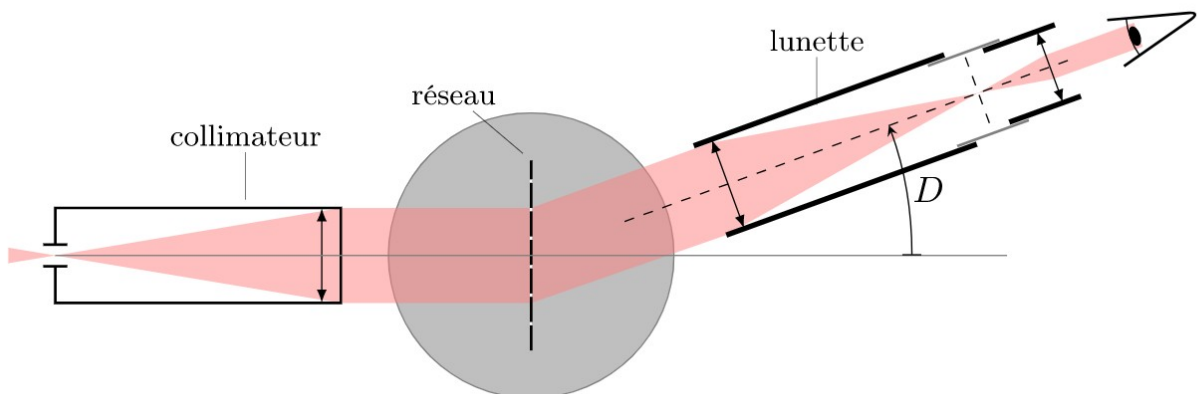
1. Description du montage

site à visiter https://physique.ensc-rennes.fr/tp_spectro.php

Spectromètre à réseau

Un spectromètre permet d'établir le spectre d'une lumière .

L'image de la fente éclairée collimateur apparaît coloré différemment selon l'orientation de la



lunette .

Voici ce que l'on peut observer , si l'on éclaire l'entrée du montage avec une lampe à décharge au Mercure



au Cadmium



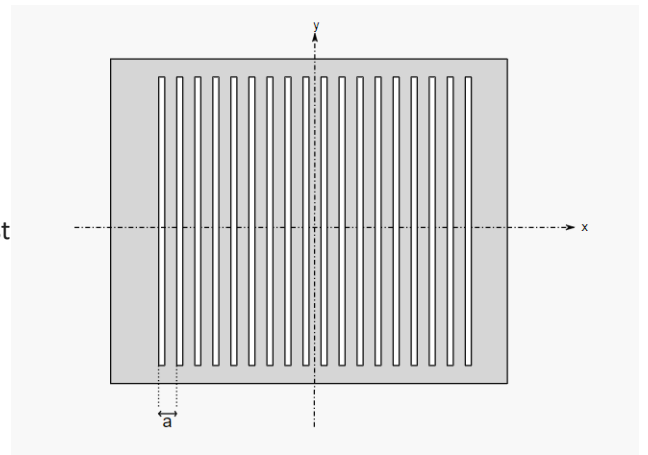
Description du réseau coeur du système:

Un réseau de diffraction est un dispositif **optique** composé d'une série de fentes parallèles (réseau en transmission), Ces traits sont espacés de manière régulière, et l'espacement est appelé le «pas» du réseau.

La période est souvent donnée par le nombre de traits par millimètres, qui peut aller de **100 à 2000 traits par millimètre**.

Estimer a :
L'espacement a est donc de l'ordre du **micromètre. 10 microns , 0,5 microns ,**

Quel est le nombre de traits éclairés par un faisceau parallèle de 1 cm de diamètre ?



2. Analyse du phénomène observé dans le cas d'un onde monochromatique

Observations avec une source Laser

Le spectromètre est éclairé par un laser émettant une onde monochromatique

Vue de dessus



Le faisceau se démultiplie à la sortie du réseau

L'intensité est maximale pour des directions privilégiées

Si l'on change de nombre de traits par millimètre, ces directions changent

Elles se resserent si n diminue et s'écartent si n augmente

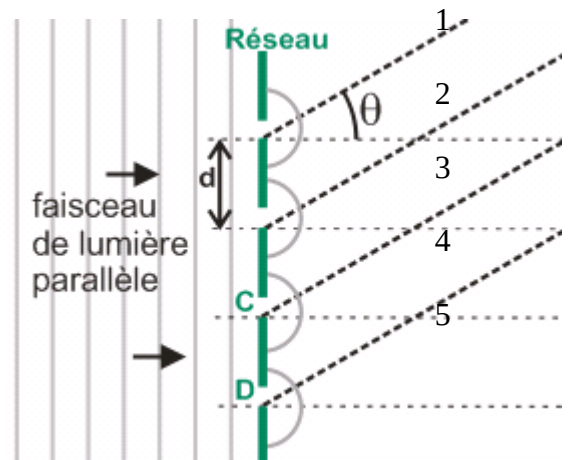
Interprétation: superposition de N ondes émises par des sources cohérentes à l'infini

On s'intéresse à un faisceau émergent de direction θ , l'intensité reçue par l'oeil est maximale .
Le schéma représente la marche des rayons à travers quelques fentes du réseau (zoom)

Chacune des fentes ultra fines diffracte le faisceau reçu.
Si la partie du réseau éclairée compte N fentes ;
Les N ondes diffractées se superposent au niveau du capteur récepteur(oeil ici)

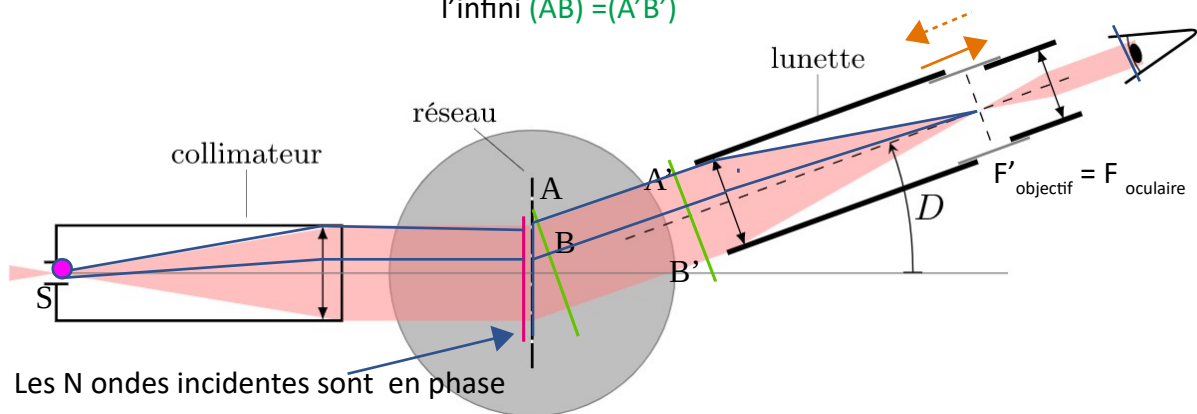
L'intensité reçue par l'oeil étant maximale , les N ondes arrivent en phase à son niveau.

1 est en phase avec 2 , 2 en phase avec 3



3. Relation fondamentale du réseau

Si l'on se place dans le sens inverse de la lumière , les traits en verts deviennent des plans d'ondes de l'onde qui viendrait de l'infini $(AB) = (A'B')$



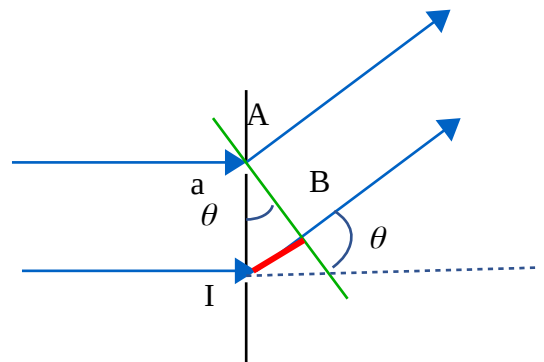
Les N ondes incidentes sont en phase

Différence de marche entre deux motifs consécutifs

n_{air} indice optique $\delta = (SIF') - (SAF') = (IB) = n_{air} a \sin\theta$

$(SA) = c \tau = (SI)$

$(AF') = (BF')$



$$\Delta\varphi_{2/1} = 2\pi/\lambda * \delta = 2\pi/\lambda * n_{\text{air}} a \sin\theta = 2\pi p$$

p ordre

Relation fondamentale du réseau sous incidence normale

$$\delta = n_{\text{air}} a \sin\theta = p\lambda$$

I = I_{max} pour $\sin\theta = p \lambda / n_{\text{air}} a$, p entier relatif

Propriétés

- Déterminer les ordres p sur la figure précédente
- Les rayons s'écartent-ils ou se rapprochent-ils lorsqu'on augmente le nombre de traits par mm
- Comment prévoir |p_{max}| observable ?

$$-1 < p\lambda/n_{\text{air}}a < 1 \quad - a n/\lambda < p < a n_{\text{air}}/\lambda, \quad |p_{\text{max}}| = a n_{\text{air}}/\lambda$$

4. Retour sur le fonctionnement d'un réseau éclairé par une lampe à décharge

Lampe à décharge de mercure,

- Expliquer pourquoi dans un ordre donné, les rayons sont alors de couleur différentes.
P fixé pour chaque longueur d'onde, on aura une direction repérée

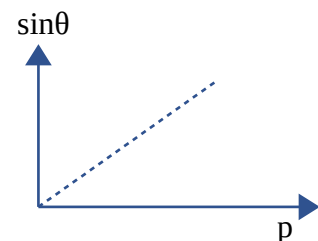
• Un réseau de pas $a = 2,2 \cdot 10^{-3} \text{ mm}$, est éclairé par un faisceau parallèle normal à son plan. On isole une raie verte du mercure et on pointe pour différentes valeurs d'ordre les faisceaux transmis.

p=1	p=2	p=3
$\theta = 14^\circ 9'$	$\theta = 29^\circ 15'$	$\theta = 47^\circ 9'$

Quelle est la longueur d'onde de la raie verte du mercure ?

$$\sin\theta = p \lambda / n_{\text{air}} a \quad n_{\text{air}} = 1, \quad \sin\theta = p \lambda / a, \quad \lambda = a \sin\theta / p,$$

$$y = \sin\theta, \quad x = p \quad y = x \lambda / a \quad \text{pente : } \lambda / a$$



$$y = x \lambda / a \quad \text{pente } 0,245 \quad \lambda = 0,245 a = 5,39 \cdot 10^{-7} \text{ m}$$

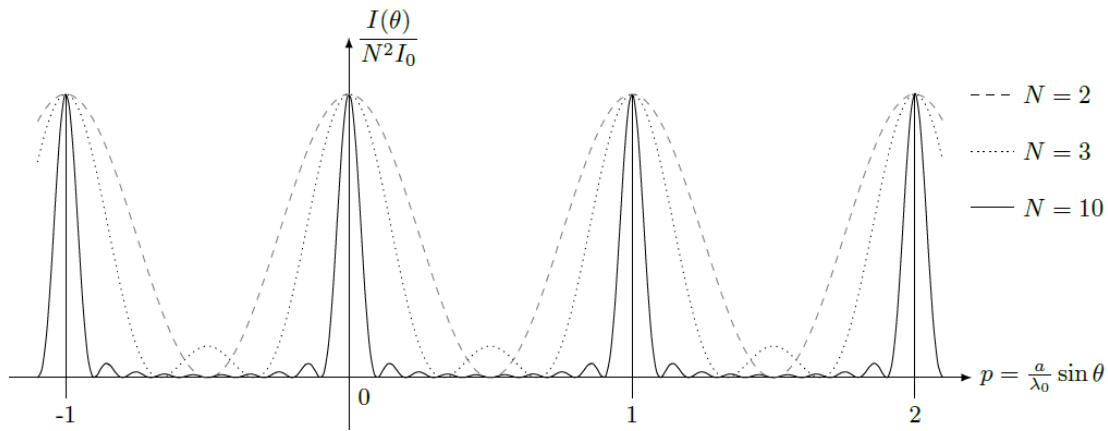
$$a = 2,2 \cdot 10^{-3} \text{ mm} = 2,2 \cdot 10^{-6} \text{ m}$$

$$\lambda = 5,4 \cdot 10^{-7} \text{ m}$$

4. Etude de l'intensité reçue en fonction de la direction réfractée

Sous incidence normale $i = 0$

$$\sin\theta = p\lambda/n_{\text{air}} a$$



Analyse par la méthode de Fresnel

On donne ci-dessus l'intensité en M infini, en fonction de l'ordre p

- Par la construction de Fresnel, justifiez l'évolution de la largeur des pics d'intensité quand N augmente
- Justifier que $I(M)$ est proportionnel à N^2

$$N=2, \text{ interférences à deux ondes } I=2I_0(1+\cos(\Delta\varphi)) \quad I_{\text{max}}=4I_0$$

Quelle serait la formule du réseau si l'angle faisceau incident est incliné d'un angle i par rapport à la normale au réseau ?

i appelé angle d'incidence

$$\delta = (SIF') - (SAF')$$

$$(SJ) = (SI)$$

$$(AF') = (BF')$$

$$(SIF') = (SI) + (IB) + (BF')$$

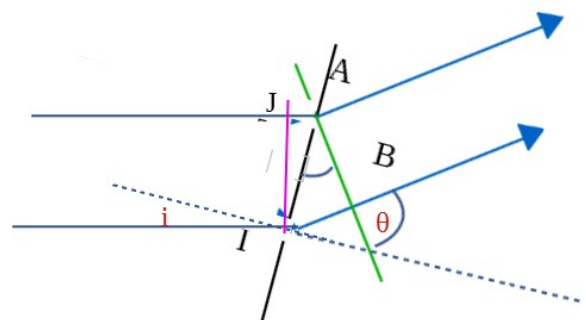
$$(SAF') = (SJ) + (JA) + (AF')$$

$$\delta = (SIF') - (SAF') = (IB) - (JA)$$

$$(IB) = n_{\text{air}} a \sin\theta$$

I_{max}

$$(JA) = n_{\text{air}} a \sin i$$



$$\delta = n_{\text{air}} a (\sin\theta - \sin i) \quad \delta = p\lambda, \text{ p entier relatif pour obtenir } I_{\text{max}}$$

Formule du réseau générale

$$\sin\theta - \sin i = p\lambda/n_{\text{air}} a$$

Outils pour le calcul de la différence de marche

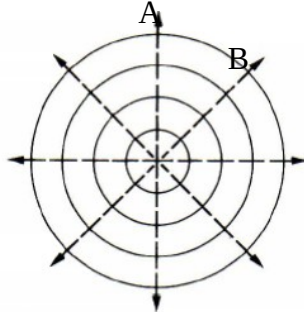
Chemin optique : (SM)

τ_{SM} durée du trajet de S à M, le long d'un rayon : $\tau_{SM} = \frac{(SM)}{c}$ c, célérité de la lumière dans le vide

Surface d'onde: (SM) = cte

$s(A,t) = a \cos(\omega t + \varphi_A)$ avec

$s(B,t) = a \cos(\omega t + \varphi_B)$ avec

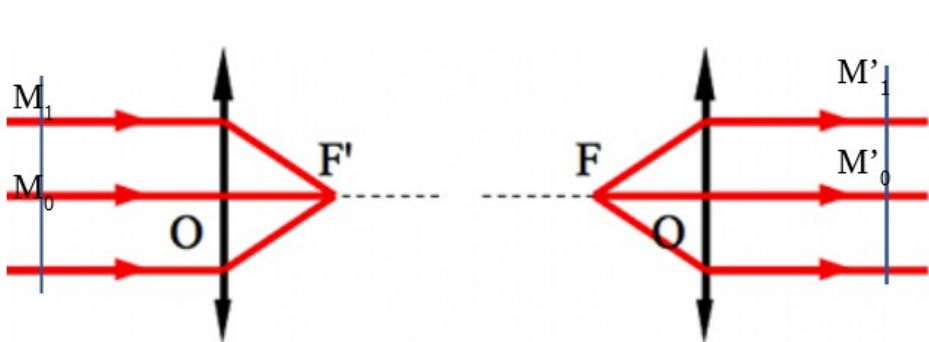


$$\varphi_A = -2\pi/\lambda * (SA) + \varphi_S$$

$$\varphi_B = -2\pi/\lambda * (SB) + \varphi_S$$

$$\varphi_A = \varphi_B$$

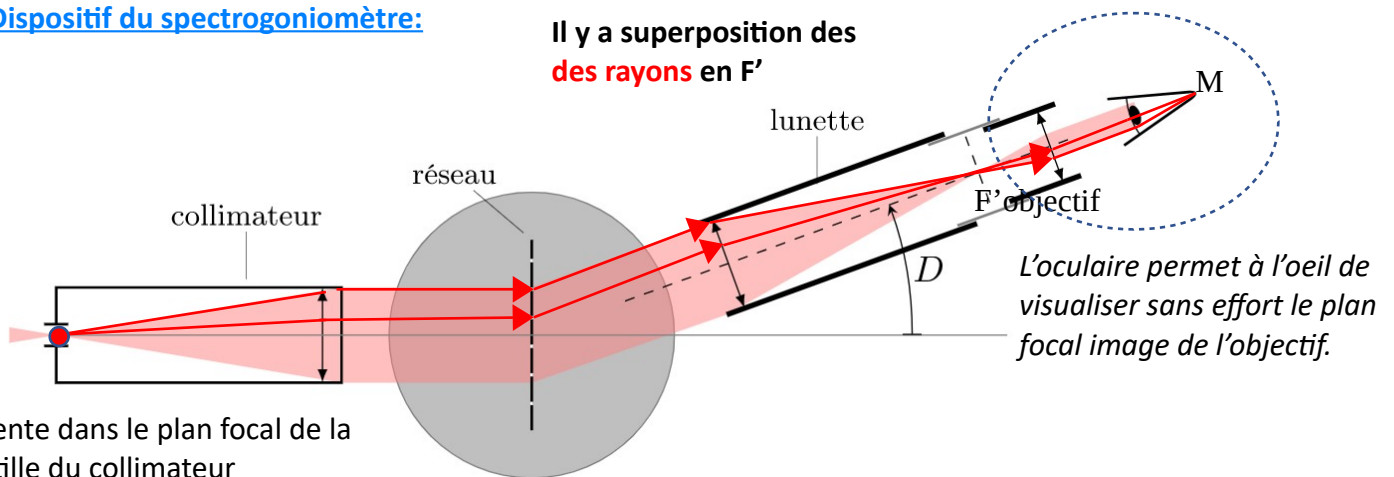
Optique géométrique et optique ondulatoire



$(M_1F') = (M_0F')$ selon le principe du retour inverse de la lumière $(FM_1') = (FM_0')$

Dispositif du spectrogoniomètre:

Il y a superposition des
des rayons en F'



L'oculaire permet à l'oeil de visualiser sans effort le plan focal image de l'objectif.

S, fente dans le plan focal de la lentille du collimateur

Rôle du collimateur

Rôle de la lunette :