

Révisions de PCSI : optique

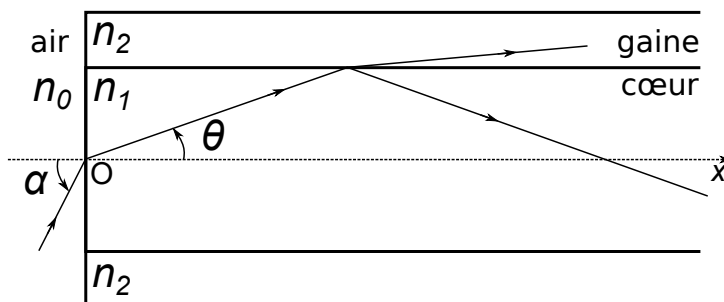
Données : Relations de conjugaison des lentilles minces :

$$\frac{1}{\overline{OA'}} - \frac{1}{\overline{OA}} = \frac{1}{f'}, \quad \overline{FA} \cdot \overline{F'A'} = -f'^2, \quad \gamma = \frac{\overline{A'B'}}{\overline{AB}} = \frac{\overline{OA'}}{\overline{OA}} = -\frac{\overline{F'A'}}{f'} = \frac{f'}{\overline{FA}}$$

1 Problème : Propagation dans une fibre optique

Appliquer les lois de Descartes. Établir la condition de réflexion totale.

Une fibre optique cylindrique d'axe (Ox) est constituée d'un cœur transparent d'indice de réfraction n_1 entouré d'une gaine transparente d'indice de réfraction n_2 inférieur à n_1 . L'information est propagée dans la fibre par les rayons qui restent confinés dans le cœur. Un rayon qui passe du cœur à la gaine est donc considéré comme perdu. L'objectif de l'exercice est de déterminer la condition en entrée de fibre pour une transmission d'information à longue distance.



Pour alléger les écritures, on s'autorise ici à appliquer les lois de Snell-Descartes pour des angles non orientés, donc toujours positifs.

[Conseil : avancer le plus possible le calcul littéral avant d'introduire des fonctions trigonométriques réciproques. L'expression du résultat sera ainsi moins difficile à simplifier.]

- On considère un rayon dans le cœur faisant un angle θ avec l'axe (Ox). Montrer qu'il restera dans le cœur si cet angle θ est inférieur à un angle θ_0 qu'on exprimera en fonction de n_1 et n_2 .
- La face d'entrée est plane et normale à l'axe (Ox). Soit α l'angle que fait dans l'air (indice n_0) le rayon lumineux incident avec (Ox). Déterminer en fonction de n_1 , n_2 et n_0 l'angle d'incidence α_0 correspondant à l'angle réfracté θ_0 dans la fibre.
- Application numérique : pour $n_0 = 1,00$, $n_1 = 1,50$ et $n_2/n_1 = 0,99$, calculer α_0 et θ_0 .
- Calculer α_0 pour une fibre d'indices $n_1 = 1,456$ (silice) et $n_2 = 1,410$ (silicone). Permet-elle de collecter plus de lumière incidente ?
- Même question dans le cas d'une fibre à base d'arséniure de gallium pour laquelle $n_1 = 3,9$ et $n_2 = 3,0$?
Commentaires. [Vu le résultat trouvé, il est nécessaire de le commenter même si l'énoncé ne le demande pas.]

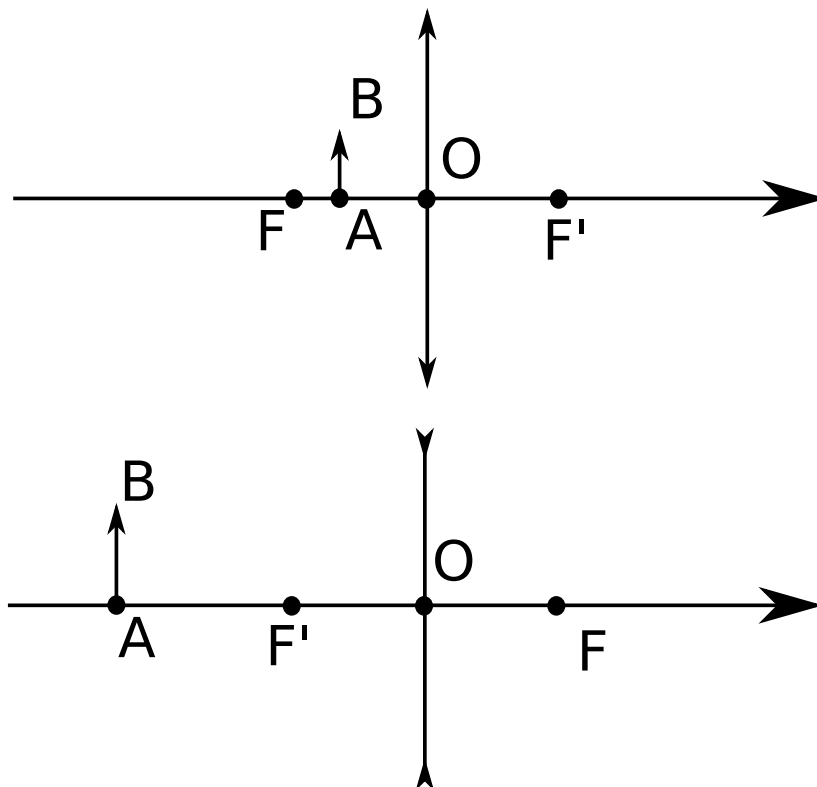
Une impulsion lumineuse arrive à $t = 0$, au point O sur la fibre précédente de longueur L , sous la forme d'un faisceau conique convergent d'axe Ox et de demi-angle au sommet $\alpha_i < \alpha_{\max}$.

- Quel rayon sortira en premier de la fibre ? Déterminer la durée τ_{\min} qu'il met à parcourir la fibre.
- Quel rayon sortira en dernier ? Déterminer la durée τ_{\max} qu'il met à parcourir la fibre en fonction de L , n_1 , c et α_i .
- Calculer l'élargissement temporel Δt de cette impulsion à la sortie de la fibre, avec $L = 10$ m et $\alpha_i = 8^\circ$.

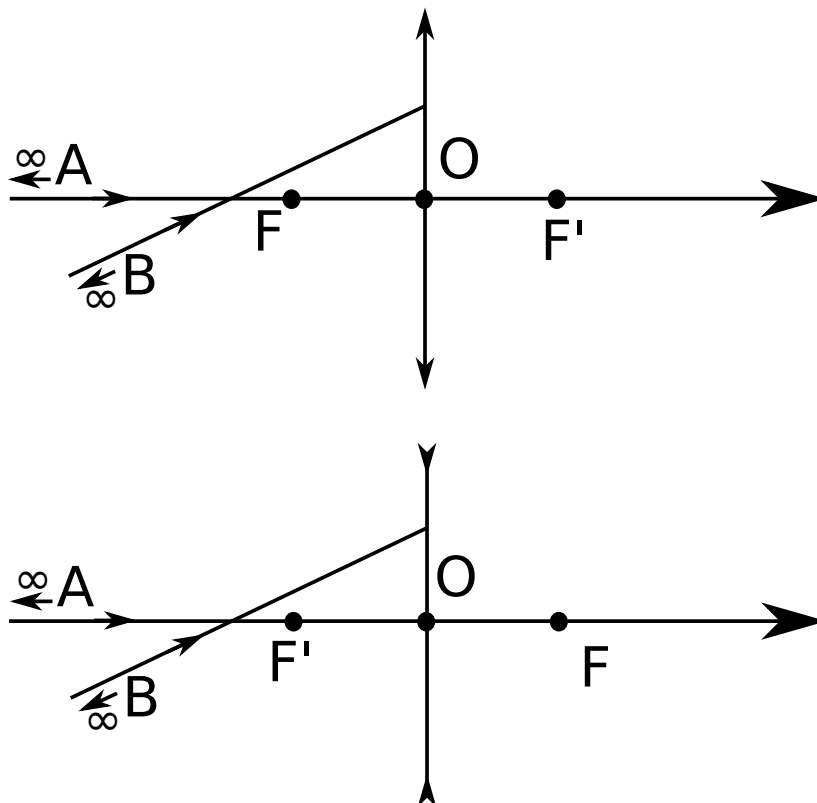
2 Détermination graphique de la position d'image par une lentille

Tracé de rayons.

Pour chacune des deux configurations suivantes, déterminer graphiquement la position de l'image de l'objet AB . Sans calcul, préciser dans chaque cas le signe du grandissement γ ; et la comparaison de $|\gamma|$ à 1.



Pour chacune des deux configurations suivantes, déterminer graphiquement la position de de l'image de l'objet AB situé à l'infini.



3 Condition de projection sur un écran

Établir et connaître la condition $D \geq 4f'$ pour former l'image réelle d'un objet réel par une lentille convergente.

On souhaite projeter une image réelle d'un objet réel sur un écran à l'aide d'une lentille convergente de distance focale f' .

1. L'objet et l'écran sont distants de D . On appelle x la distance qui sépare l'objet de la lentille. Écrire une relation de conjugaison et en déduire que pour que l'image existe, il faut que f' soit plus petite que $D/4$.
2. Montrer qu'on peut alors choisir deux positions différentes de la lentille.
3. On aimerait produire une image agrandie de l'objet. Laquelle des deux positions choisir ?

4 Savoir-faire en labo d'optique

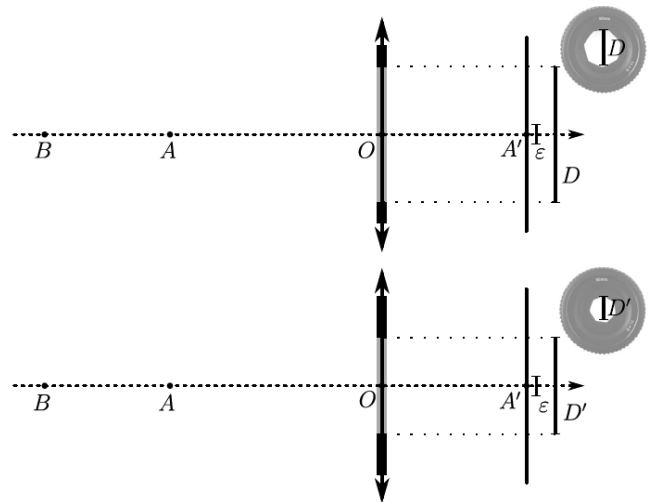
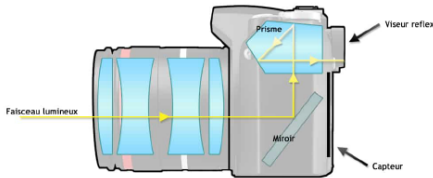
Exercice en lien avec les TP.

1. Un collègue vous prête une lentille dont les bords sont plus fins que le centre. Est-ce une lentille divergente ou convergente ?
2. Les lunettes de votre collègue présentent des bords plus épais que le centre, est-il myope ou hypermétrope ?
3. Vous souhaitez beaucoup focaliser un faisceau incident approximativement parallèle. Faut-il une lentille divergente ou convergente ? De petite ou grande distance focale ? Où placer un écran pour observer l'image ?
4. Vous souhaitez faire une image agrandie d'un petit objet sur un écran éloigné (mais peu importe le sens de l'image). Quel est l'ordre de grandeur de la distance focale à utiliser ? Où placer la lentille ?
5. Vous souhaitez estimer rapidement l'ordre de grandeur de la distance focale d'une lentille convergente. Vous avez à votre disposition un exemplaire papier de *Aké, les années d'enfance* (Wole Soyinka). Comment procéder ?

5 Profondeur de champ d'un appareil photographique

Étudier l'influence du diaphragme sur la formation de l'image d'un appareil photographique. Construire géométriquement la profondeur de champ pour un réglage donné d'un appareil photographique

On modélise un appareil photo par une lentille mince et un capteur CCD sur lequel la photographie se forme. En réalité l'appareil est composé de différentes lentilles et bagues qui permettent de modifier la position du point focal image effectif. L'ouverture angulaire de la lentille est limitée par un diaphragme dont le diamètre D peut être modifié par l'utilisateur. Le capteur CCD est composé de cellules carrées de longueur ε .



1. Sur les figures ci-dessus la photographe a fait sa mise au point sur un objet A sur l'axe optique. Le point A' représente l'image de A par la lentille. Déterminer graphiquement la position du point focal objet F et image F' de la lentille.
2. On s'intéresse maintenant à la profondeur de champ, c'est à dire la plage de netteté autour du point A. Représenter graphiquement la zone éclairée à la surface du capteur par les rayons issus de B pour les deux configuration. On remarquera en particulier que les bords de cette zone correspondent au point passant par les bords du diaphragme.
3. Proposer un critère sur la taille de la zone éclairée par les rayons issus de B par rapport à ε pour que l'image de B soit nette pour le capteur.
4. Comparer la profondeur de champ dans les deux configurations. Conclure.

6 Problème : Focométrie d'un objectif d'appareil photo

Étude d'un instrument d'optique à une lentille.



FIGURE 1 – Objectif TAMRON 70-200f/2.8 monté sur un Nikon D200.

La *focométrie* est la mesure de distances focales de lentilles. Cet exercice s'intéresse à l'objectif TAMRON 70-200f/2.8 assimilé à une lentille mince convergente notée L . On note O son centre, f' sa distance focale, AB un objet perpendiculaire à l'axe optique, $A'B'$ son image par L , les points A et A' étant sur l'axe optique.

- Méthode des points conjugués. On place un objet AB réel à 35 cm devant la lentille L , l'image $A'B'$ réelle de cet objet se forme sur un écran situé à 46,5 cm après la lentille.
 - Déduire de cette observation que f' est inférieure à 35 cm.
 - Effectuer un schéma du dispositif avec tracé des rayons lumineux de construction (ce schéma n'est pas à l'échelle car on ne connaît pas encore f').
 - À l'aide d'une formule de conjugaison, exprimer f' en fonction de \overline{OA} et $\overline{OA'}$ puis effectuer l'application numérique.
- Méthode de Bessel. On fixe la distance D entre un objet AB et l'écran. On déplace L entre l'objet AB et l'écran pour former l'image $A'B'$ de AB sur l'écran. On note $p = \overline{OA}$.
 - Montrer qu'il existe une valeur minimale D_{\min} de D pour réussir à former une image. Donner l'expression de D_{\min} en fonction de f' ?
 - Dans ce cas, établir qu'il existe deux positions distinctes repérées par p_1 et p_2 (avec $p_1 < p_2$) permettant d'obtenir une image sur l'écran. On exprimera p_1 et p_2 en fonction de D et f' .
 - Soit $d = p_2 - p_1$ la distance entre les deux positions possibles de la lentille pour obtenir une image. Exprimer la distance focale en fonction de D et d .
 - On mesure $D = 90 \pm 1$ cm et $d = 30 \pm 1$ cm. En déduire f' sans calculer son incertitude.
- La distance focale de l'objectif TAMRON 70-200f/2.8 peut être ajustée de 70 à 200 mm. La figure 2 comprend une image prise avec $f' = 70$ mm, l'autre avec $f' = 200$ mm. Expliquer à l'aide d'un schéma simple quelle image correspond à quelle focale.



FIGURE 2 – Deux photographies prises du même endroit par un TAMRON 70-200f/2.8 pour deux réglages différents de distance focale.

7 Problème : Étude d'un microscope

Étude d'un instrument d'optique à deux lentilles.

Le but d'un microscope est de produire, à partir d'un petit objet à distance finie, une image à l'infini pour observation par un œil normal au repos.

La version la plus simple d'un microscope est constituée de deux lentilles convergentes. La première, l'objectif, produit une image intermédiaire agrandie de l'objet. À partir de cette image intermédiaire, la seconde lentille, l'oculaire, produit une image finale à l'infini observable par un œil au repos.

7.1 L'objectif

L'objectif est réalisé par une lentille L_1 placée en O_1 de distance focale $f'_1 = \overline{O_1F'_1} = 1,0$ cm. On notera AB l'objet plan transverse observé avec A sur l'axe, $\overline{O_1A} = -1,5$ cm, $\overline{AB} = a = 0,50$ cm.

1. En respectant l'échelle, construire graphiquement l'image $\overline{A_1B_1}$ de AB à travers L_1 . Prévoir de laisser un peu de place à droite pour y ajouter ensuite une deuxième lentille. L'image est-elle agrandie ou rétrécie ? Réelle ou virtuelle ? De même sens ou renversée ?
2. Vérifier par le calcul la position de A_1 .
3. Exprimer le grandissement γ_1 de l'objectif en fonction de f'_1 et $\overline{O_1A}$. Puis application numérique. Déduire de cette valeur si l'image est agrandie/rétrécie, réelle/virtuelle, de même sens/renversée.

7.2 L'oculaire

4. Où faut-il placer l'oculaire L_2 pour qu'un œil normal au repos puisse observer l'image $\overline{A'B'}$ de $\overline{A_1B_1}$ par L_2 sans accommoder ?
5. On place L_2 à cet endroit. On donne $f'_2 = 4,0$ cm. Déterminer graphiquement où se trouve l'image $\overline{A'B'}$.
6. On note α' l'angle sous lequel on voit $\overline{A'B'}$. On se place dans les conditions de Gauss où les angles sont suffisamment petits pour utiliser les approximations suivantes : $\sin(x) \simeq x$ et $\tan(x) \simeq x$. Exprimer α' en fonction de γ_1 , a et f'_2 . Application numérique.

7.3 Efficacité du microscope

7. Pour un œil normal, le punctum proximum $d_{PP} \simeq 25$ cm correspond à la distance minimale objet-œil où on peut encore accommoder. L'angle maximal sous lequel on voit l'objet AB à l'œil nu est noté α . Donner son expression en fonction des données. Application numérique.
8. On appelle « grossissement commercial » du microscope la quantité $G = \alpha'/\alpha$. L'exprimer en fonction de γ_1 , d_{PP} et f'_2 . Calculer sa valeur.